

Шифр

6	-																	
---	---	--	--	--	--	--	--	--	--	--	--	--	--	--	--	--	--	--

	Виктория, Ладожское	Чад,	Озеро	Африки Номсерлен
--	------------------------	------	-------	---------------------

Шифр

9	-																			
---	---	--	--	--	--	--	--	--	--	--	--	--	--	--	--	--	--	--	--	--

Всероссийская олимпиада школьников по географии
школьный этап 2022-2023 учебный год
9 класс

Лист ответов
Тестовый тур

№	Ответ
1	В
2	Б
3	Г
4	А
5	Г
6	Б
7	Б
8	Б
9	Г
10	А
11	В
12	А
13	Б
14	1г, 2В, 3Г, 4а, 5б.
15	А, В
16	ГДВАБ
17	Д, А, Г, Б, В.

Шифр

9	-																		
18	1 δ II; 2 gV; 3 Γ III; 4 л I; 5 a IV																		
19	1-g; 2-2; 3-a; 4-л; 5-δ																		
20	A-3-1; Б-4-III; в-5-IV; Г-II-2																		

Шифр




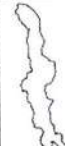

9	-																		
---	---	--	--	--	--	--	--	--	--	--	--	--	--	--	--	--	--	--	--

Теоретический тур


Задание № 1. «Космический снимок»

№	Вопрос	Ответ
1	Как называется этот искусственный гидрографический объект?	Суэцкий канал
2	Какие части света он разъединяет?	Европу и Азию
3	Какие водные объекты он соединяет?	—
4	Какие города расположены на берегу объекта?	Суэц и Порт Саид
5	На территории какого государства расположен этот гидрографический объект?	Египет
6	Столица государства, на территории которого расположен этот гидрографический объект?	Каир
7	Почему этот объект без шлюзов?	—

Задание № 2. «Картографическое»

Контур озера	Название	Материк	Происхождение	Сведения
 А	Каспийское море	Евразия	Остаточное	Уровень озера находится ниже уровня Мирового океана. Оно расположено преимущественно в зонах полупустынь и пустынь внутренней области материка
 Б	Виктория	—	—	На территории озера находятся знаменитые заповедники и национальные парки. Наиболее интересен национальный парк острова Рубондо.
 В	—	—	Остаточное	В течение своей истории оно неоднократно претерпевало трансгрессии и регрессии — увеличения и последующие усыхания
 Г	Ньяса	Африка	Тектошнечное	В Республике Малави, которой принадлежит большая часть побережья, оно официально называется Малави, по названию страны и этнической группы. В Танзании и Мозамбике используется географическое название.
 Д	Ладожское	Евразия	—	Пятое по величине озеро материка. Оно

Шифр





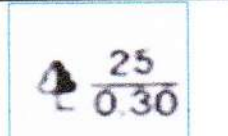
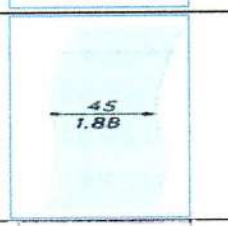

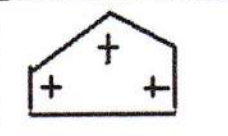
9	-																				
Д	Онтарио																				связано с оз. Эри рекой, на которой находится знаменитый водопад
Е		Нагорские озера	Евразия																		С сентября 1941г. по март 1943г. действовала «Дорога жизни». Она связывала находящийся в блокаде г. Ленинград с остальной территорией страны.

№	Вопрос	Ответ
1.	Берега каких пяти стран омывает озеро А?	Россия, Казахстан, Азербайджан, Иран, Туркмения
2.	В честь кого названо озеро Б?	Королева Виктории
3.	Какая деятельность человека ускорило усыхание озера В?	—
4.	Какое озеро мира называют сестрой озера Г?	Байкал
5.	Назовите водопад на реке, которая связывает оз. Д и оз. Эри?	—
6.	Как назывался водный путь, проходящий по озеру Е из Скандинавии через Восточную Европу в Византию с IX веке?	—



Шифр

9	-																		
---	---	--	--	--	--	--	--	--	--	--	--	--	--	--	--	--	--	--	--

Задание № 3. «Топографическое»

Условный знак на топографической карте	Название условного знака	Номер объекта на Рисунке (если обозначен)	Расшифровка текстовых подписей условных знаков
	Хвойный лес		
	—	—	—
	Поселки		
	Церковь		2
	Маштаб		
	река		4
	Озеро		3
	Кладбище		

Шифр

9	-																			
		мост										5								
		ёлка																		

Задание № 4. «Историческая география»

Вопрос	Ответ
1. Назовите имя натуралиста, о котором говорится в Указе президента РФ?	В. К. Арсеньев
2. В качестве кого совершил первые свои экспедиции по югу Дальнего Востока?	-
3. Перед вами памятник на сопке Увальной. В каком городе он возведен?	Город Арсеньев
4. Какие книги написал путешественник, в честь которого разработан фирменный знак, и с какой целью?	-
5. Запишите фамилию норвежского путешественника	-